
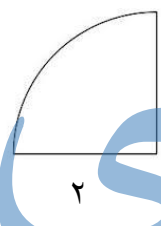
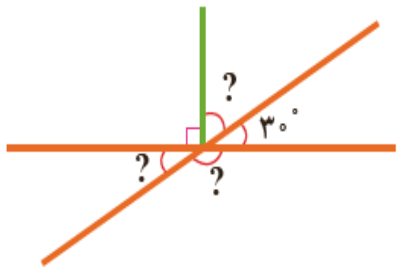


سؤالات امتحان هماهنگ درس: ریاضی	ساعت شروع: ۱۰:	مدت امتحان: ۶۰ دقیقه	
نام و نام خانوادگی:	پایه ششم دوره ابتدایی	تاریخ امتحان: ۱۴۰۱/۳/۸	تعداد صفحه: ۳
دانش آموزان مدارس روزانه، داوطلبان آزاد و طرح جامع خردادماه سال ۱۴۰۱	اداره سنجش آموزش و پرورش منطقه جلفا		

باسمه تعالی

ردیف	دانش آموزان عزیز! باتوکل به خدا، ابتدا سوالات را به دقت بخوانید سپس با آرامش پاسخ آنها را بنویسید	بارم
۱	دور اعدادی که هم بر ۲ و هم بر ۵ بخش پذیرند خط بکشید. ۸۰ - ۹۶ - ۱۷۲۰ - ۲۵۵۵ - ۳۵۴	خ خ قق نن
۲	اعداد زیر را مقایسه کنید و علامت ($<$ $=$ $>$) قرار دهید. $۱۲۵/۳۸ \bigcirc ۱۲۵/۳۸$ $-۱۰ \bigcirc +۱$ $\frac{۲}{۲} \bigcirc \frac{۳}{۱}$ $\frac{۵}{۳} \bigcirc \frac{۵}{۹}$	خ خ قق نن
۳	اعداد زیر را از کوچک به بزرگ مرتب کنید. $۱\frac{۲}{۳}$ ، $\frac{۴}{۳}$ ، $\frac{۳}{۲}$ ، $\frac{۷}{۵}$	خ خ قق نن
۴	یک بطری $\frac{۸}{۱۰}$ لیتر دوغ دارد با این بطری دوغ چند لیوان به گنجایش $\frac{۱۶}{۱۰۰}$ لیتر را می توان پر کرد؟	خ خ قق نن
۵	کسرهای زیر را به عددهای اعشاری تبدیل کنید. $\frac{۲۴}{۱۰۰}$ $\frac{۹}{۵}$	خ خ قق نن
۶	تقسیم زیر را تا یک رقم اعشار در خارج قسمت ادامه دهید. $۳۸ \overline{) \quad \quad} / ۸$	خ خ قق نن

بارم	دانش آموزان عزیز! باتوکل به خدا، ابتدا سوالات را به دقت بخوانید سپس با آرامش پاسخ آنها را بنویسید	ردیف
خ خ خ ق ق ن ن	<p>نقاط $\begin{pmatrix} ۱ \\ ۵ \end{pmatrix}$ $\begin{pmatrix} ۴ \\ ۱ \end{pmatrix}$ $\begin{pmatrix} ۱ \\ ۱ \end{pmatrix}$ مختصات سه رأس یک مستطیل هستند</p>  <p>الف) این نقاط را روی صفحه ی مختصات مشخص کنید. ب) مختصات رأس دیگر این مستطیل را بنویسید. ج) مساحت آن را پیدا کنید.</p>	۷
خ خ خ ق ق ن ن	<p>حجم مکعبی به ضلع ۲ دسی متر ، چند دسی متر مکعب است؟</p>	۸
خ خ خ ق ق ن ن	<p>مساحت شکل داده شده را بدست آورید.</p> 	۹
خ خ خ ق ق ن ن	<p>اندازه ی زاویه های خواسته شده را پیدا کنید.</p> 	۱۰
خ خ خ ق ق ن ن	<p>دریک رستوران به مبلغ فاکتور ۸درصد مالیات اضافه می شود اگر مبلغ فاکتور ۵۰۰۰۰هزار تومان باشدچقدر مالیات به آن اضافه می شود؟</p>	۱۱

بارم	دانش آموزان عزیز! باتوکل به خدا، ابتدا سوالات را به دقت بخوانید سپس با آرامش پاسخ آنها را بنویسید	ردیف
خ خ خ ق ق ن ن	طبق قرار داد، محاسبه ها را با رعایت ترتیب انجام عملیات انجام دهید. $1/1 - 0/3 \times (0/43 + 2/07) =$	۱۲
خ خ خ ق ق ن ن	مقدار تقریبی عدد زیر را به روش گرد کردن بدست آورید. (با تقریب کمتر از ۰/۰۱) $18/425 \approx$ <div style="text-align: center; border: 2px solid black; border-radius: 15px; padding: 10px; margin: 20px auto; width: fit-content;"> <p>موفق و پیروز باشد</p> </div>	۱۳

جزوه سیپی